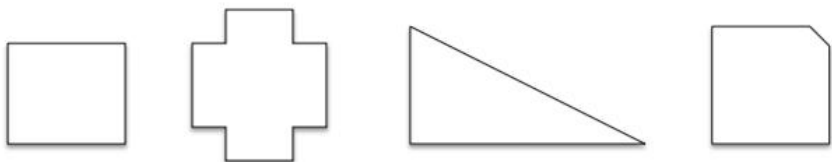



L'angle droit

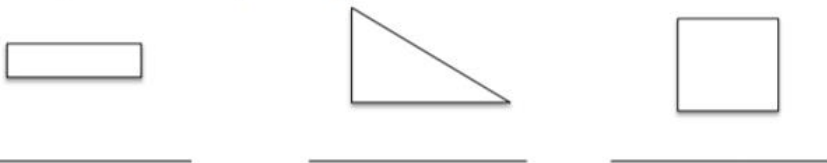
1 Pour chaque forme entoure les angles droits:



2 Entoure seulement les angles droits:

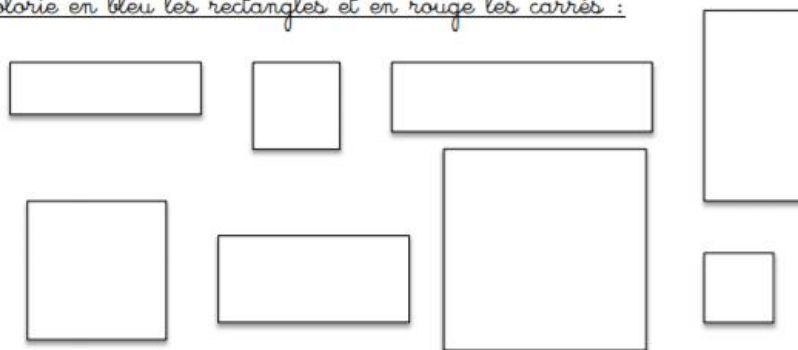


3 Indique combien il y a d'angles droits:



Le carré et le rectangle

1 Colorie en bleu les rectangles et en rouge les carrés :



2 Complète la forme avec ta règle pour réaliser un carré :



3 Complète la forme avec ta règle pour réaliser un rectangle :



4 Ecris s'il s'agit d'un carré ou d'un rectangle:

