


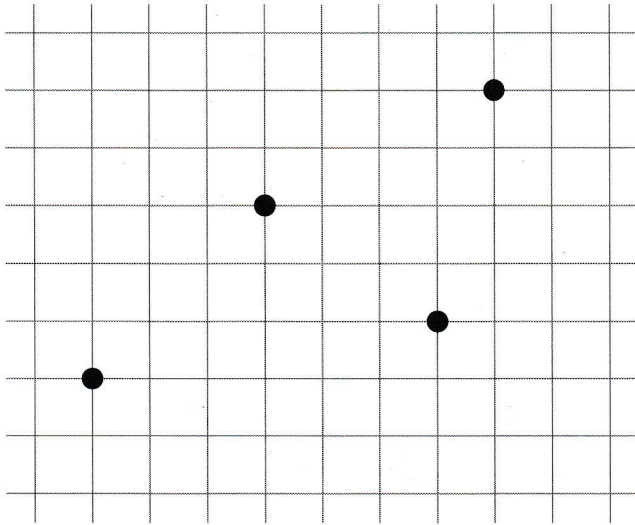
Prénom :

Date :

Exercice 1



Reproduis les points sur le quadrillage de droite.



18 Repérage sur un quadrillage

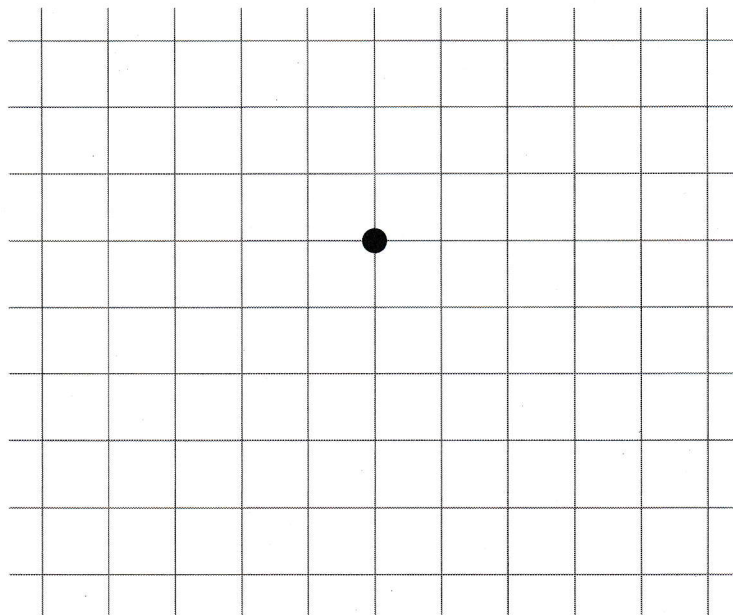
Évaluations

Exercice 2



Trace le déplacement décrit par le codage à partir du point noir.

↓3 ←2 ↑2 →1 ↑3 →3



18 Repérage sur un quadrillage

Compétences • 1 Reproduire un point sur un quadrillage. • 2 Décoder pour représenter un déplacement.

- 1 2 Acquise(s)
- 1 2 Partiellement acquise(s)
- 1 2 Non acquise(s)