

Exercice 1

[séance 1] Entoure celle qui a gagné, ou les deux si elles sont ex-aequo.

12.1 Comparaison de quantités plus grandes (2)

Exercice 2

[séance 2] Lila, Max et Tom ont changé de jeu pour pouvoir jouer à trois en prenant des jetons.

Entoure le prénom du gagnant.

Lila

Max

Tom

12.1 Comparaison de quantités plus grandes (2)

Exercices supplémentaires

Exercice 3

(séance 3) Éva, Max, Tom et Lila ont acheté des bonbons. Les bonbons sont vendus soit par sac de 10 bonbons, soit à l'unité.

Qui a le plus de bonbons ? **Entoure** son prénom.

Max

Lila

Éva


Tom


Exercice 4


(séance 4) Lila, Max, Éva et Tom ont joué aux cartes ensemble.

1, 2, 3 **Écris** les prénoms en commençant par celui qui a gagné, puis le 2^e, le 3^e et le 4^e.


Lila


6 cartes 


3 cartes 

3 cartes 


Max


12 cartes 


4 cartes 

2 cartes 


Éva


4 cartes 

2 cartes 

4 cartes 

Tom

3 cartes 

5 cartes 

1^{er} : 2^e : 3^e : 4^e :